

PRUEBAS SELECTIVAS PARA EL
INGRESO EN EL CUERPO DE
BOMBEROS DE LA COMUNIDAD DE
MADRID.

Escala Ejecutiva u Operativa.
Puesto de Trabajo de
BOMBERO CONDUCTOR (Grupo D)

PRIMER EJERCICIO. PRIMERA FASE.

19 DE OCTUBRE DE 2003

OPCIÓN 2

1) Según la Ley 14/1.994 por la que se regulan los Servicios de Prevención, Extinción de Incendios y Salvamentos (con sus pertinentes modificaciones), el abandono del puesto de trabajo, tanto en caso de siniestro como en las dependencias del servicio, sin autorización de sus superiores, es:

- a) Falta grave.
- b) Falta muy grave.
- c) Falta leve.
- d) Falta muy leve.

2) Según la Ley 14/1.994 por la que se regulan los Servicios de Prevención, Extinción de Incendios y Salvamentos (con sus pertinentes modificaciones), originar enfrentamientos en el servicio o en el puesto de trabajo o tomar parte en los mismos, es:

- a) Falta grave.
- b) Falta muy grave.
- c) Falta leve.
- d) Falta muy leve.

3) Según el Plan INFOMA, en el territorio de la Comunidad de Madrid, se consideran varios tipos de situaciones de peligro de incendios forestales, desde el día 16 de junio al 30 de septiembre, es:

- a) Época de peligro muy alto.
- b) Época de peligro alto.
- c) Época de peligro medio.
- d) Época de peligro bajo.

4) Según el Plan INFOMA, en el territorio de la Comunidad de Madrid, se consideran varios tipos de situaciones de peligro de incendios forestales, del 1 al 15 de junio y del 1 al 31 de octubre, es:

- a) Época de peligro muy alto.
- b) Época de peligro alto.
- c) Época de peligro medio.
- d) Época de peligro bajo.

5) La carretera que une las localidades de Corpa y Pezuela de las Torres es:

- a) M - 213
- b) M - 225
- c) M - 219
- d) M - 233

6) A quien corresponde la determinación de las condiciones de empleo de los funcionarios de la Comunidad.

- a) Al Servicio de Justicia.
- b) Al derecho administrativo.

- c) Al derecho laboral.
- d) Al derecho civil.

7) Cual de las siguientes respuestas no corresponde a los derechos de los funcionarios.

- a) El ejercicio de las libertades sindicales.
- b) El respeto y obediencia a sus superiores.
- c) A la seguridad e higiene en el trabajo.
- d) A la asistencia sanitaria y a las prestaciones sociales.

8) Señale la respuesta correcta sobre los derechos de los funcionarios.

- a) A la realización fuera de horario de tareas que se les recomiende por necesidades del Servicio.
- b) A la carrera administrativa y a la formación.
- c) El sigilo respecto a los asuntos conocidos por razón del cargo.
- d) El cumplimiento con eficacia de las funciones que tengan asignadas.

9) A quien corresponde el desarrollo del régimen de incompatibilidades del personal al servicio de la Comunidad de Madrid.

- a) A la Asamblea General de la Comunidad de Madrid.
- b) Al Consejo de Gobierno de la Comunidad de Madrid.
- c) Al Director General de Cada Servicio.
- d) Al Consejero de la Consejería donde pertenezca el funcionario.

10) por la que se regulan los Servicios de Prevención, Extinción de Incendios y Salvamentos (con sus pertinentes modificaciones), en qué grupo se clasifica la categoría de Jefe Supervisor.

- a) Grupo A.
- b) Grupo B.
- c) Grupo C.
- d) Grupo B o C.

11) Según los Art. 63, 64 y 65 de la Ley de la Función Pública de la Comunidad de Madrid,

- a) Podrá acordarse la suspensión provisional del funcionario cuando, habiéndole sido instruido un procedimiento judicial o disciplinario, el interés público aconseja su no continuidad en el puesto de trabajo, en tanto se sustancia el proceso o expediente.
- b) La situación administrativa de suspensión firme procede como consecuencia de sanción disciplinaria o de sentencia judicial, sin que en ningún caso proceda una suspensión provisional mientras se resuelve el expediente o proceso judicial.
- c) La situación administrativa de suspensión provisional, dará derecho a percibir únicamente el importe íntegro de las retribuciones básicas, pero ninguna de las complementarias.

d)El cumplimiento de la suspensión firme se realizará por el tiempo señalado, independientemente del tiempo de suspensión provisional, si hubiere existido.

12) Según el Art. 66 de la Ley de la Función Pública de la Comunidad de Madrid, el reingreso al servicio activo de quienes cesen en alguna de las situaciones previstas en el Capítulo VI, y no les correspondiera la reserva de plaza...

a)se producirá según el orden de prelación siguiente:

- 1ºExcedentes forzosos.
- 2ºExcedentes voluntarios.
- 3ºSuspensos

b)se producirá según el orden de prelación siguiente:

- 1ºExcedentes forzosos.
- 2ºSuspensos
- 3ºExcedentes voluntarios.

c)se producirá atendiendo a la situación familiar de los funcionarios que se encuentren en dicha situación administrativa.

d)se producirá según el orden de prelación siguiente.

- 1ºServicio en otras Administraciones Públicas.
- 2ºExcedencia.
- 3ºSuspensión.

13) Según el Art. 71 de la Ley de la Función Pública de la Comunidad de Madrid,

a)El funcionario con un hijo/a menor de veinte meses tendrá derecho a un permiso de una hora diaria de ausencia del trabajo para atenderlo. En el caso de que el padre y la madre presten servicio en la Administración de la Comunidad, sólo uno de ellos podrá ejercer este derecho.

b)El funcionario con un hijo/a menor de veinte meses tendrá derecho a un permiso de una hora diaria de ausencia del trabajo para atenderlo. En el caso de que el padre y la madre presten servicio en la Administración de la Comunidad, ambos podrán ejercer este derecho.

c)El funcionario con un hijo/a menor de doce meses tendrá derecho a un permiso de una hora diaria de ausencia del trabajo para atenderlo. En el caso de que el padre y la madre presten servicio en la Administración de la Comunidad, ambos podrán ejercer este derecho.

d) Ninguna de las tres respuestas anteriores es correcta

14) Según el Art. 10 de la Ley 14/1994 por la que se regulan los Servicios de Prevención, Extinción de Incendios y Salvamentos (con sus pertinentes modificaciones), integran los Servicios de Prevención y Extinción de Incendios y Salvamentos de la Comunidad de Madrid

a)El Cuerpo de Bomberos de la Comunidad de Madrid

b)El Cuerpo de Bomberos de la Comunidad de Madrid, asimismo, se consideran a todos los efectos colaboradores de dichos Servicios, los bomberos voluntarios de la Comunidad de Madrid

c)El Cuerpo de Bomberos de la Comunidad de Madrid, asimismo, se consideran a todos los efectos colaboradores de dichos Servicios, los bomberos voluntarios de la Comunidad de Madrid y los voluntarios que actúen en el ámbito de la protección civil.

d)El Cuerpo de Bomberos de la Comunidad de Madrid, asimismo, se consideran a todos los efectos colaboradores de dichos Servicios, los bomberos voluntarios de la Comunidad de Madrid, los voluntarios que actúen en el ámbito de la protección civil y el personal de los servicios de vigilancia, seguridad, prevención contra incendios y autoprotección de las empresas públicas y privadas.

15) Según el Art. 6.7. del Reglamento de Prevención de Incendios de la Comunidad de Madrid. Alumbrado de emergencia. Donde se precise maniobrar instalaciones, deberá proporcionar una iluminancia mínima de:

a)3 lux.

b)5 lux.

c)7 lux

d)No precisa iluminación de emergencia.

16) Según el Art. 6.9. del Reglamento de Prevención de Incendios de la Comunidad de Madrid, la capacidad de carga mínima de un ascensor de emergencia es de:

a)360 kg.

b)430 kg.

c)530 kg.

d)630 kg.

17) Según el Art. 7 del Reglamento de Prevención de Incendios de la Comunidad de Madrid, cuando un edificio sea exento, la accesibilidad de los vehículos de bomberos, debe ser al menos a:

a)No se especifica.

b)2 fachadas, excepto en el caso de vivienda unifamiliar.

c)3 fachadas, excepto en el caso de vivienda unifamiliar.

d)A todas sus fachadas, excepto en el caso de vivienda unifamiliar.

18) Según el Plan INFOMA, la época de peligro medio de incendios forestales, salvo modificación por circunstancias meteorológicas que lo justifiquen, se define:

a)Del 15 de mayo al 15 de junio y del 1 al 15 de octubre.

b)Del 15 de mayo al 30 de junio y del 1 de octubre al 15 de noviembre.

c)Del 1 al 15 de junio y del 1 al 31 de octubre

d)Del 1 de mayo al 30 de junio y del 1 de septiembre al 15 de octubre.

19) Según el Plan INFOMA, la Situación-Nivel de Gravedad 3, es declarada por:

- a) Por el Consejero de Medio Ambiente
- b) Por el Delegado del Gobierno en la Comunidad de Madrid.
- c) Por el Presidente de la Comunidad de Madrid.
- d) Por el Ministro de Interior

20) ¿Qué porcentaje del complemento específico, cobra un funcionario en suspensión provisional?

- a) EL 50
- b) El 75
- c) El 100
- d) Todas son falsas

21) Según la Ley 2/1.985, sobre Protección Civil, los ciudadanos en las tareas propias de Protección Civil serán:

- a) Colaboradores
- b) Voluntarios
- c) Sujetos activos y beneficiarios
- d) Las respuestas a) y c) son correctas

22) ¿Cuántas Escalas se distinguen en el Cuerpo de Bomberos de la C.M.?

- a) Mando y Técnica.
- b) Ejecutiva y Operativa.
- c) Dos.
- d) Ocho.

23) Si hablamos del Plan INFOMA, ¿mediante la integración de qué valores de los siguientes se calcula el valor del territorio?

- a) Ecológico y de protección social, superficie del terreno y especies que lo pueblan.
- b) Ecológico y de protección, y social.
- c) Ecológico, de protección social, y flora.
- d) Ninguna es correcta

24) ¿Cuál de los siguientes no corresponde a los Grupos de Acción que se constituyen para la ejecución de las acciones previstas en el Plan INFOMA?

- a) Grupo de Extinción
- b) Grupo de Información
- c) Grupo de Apoyo logístico
- d) Grupo Sanitario

25) En el PLATERCAM, ¿Cuál es el órgano de trabajo del Director del Plan?

- a) El CECOP.
- b) El 112.
- c) El Puesto de Mando Avanzado.
- d) El CECOPI.

26) Según el PLATERCAM, ¿Cual es el Centro Receptor de Alarmas y de todos los sistemas de información y bases de datos necesarios que ayudan al Director del Plan en la toma de decisiones y planificación de las actuaciones?

- a) El 112.
- b) El CECOP.
- c) El CECOPI.
- d) El Puesto de Mando Avanzado.

27) La edad mínima para que un miembro del Cuerpo de Bomberos pase a segunda actividad por razón de edad será la siguiente:

- a) 60 años
- b) 50 años
- c) 65 años
- d) 55 años

28) En caso de incendio, catástrofe o calamidad pública, los miembros del Cuerpo de Bomberos, podrán:

- a) Limitar o restringir por el tiempo necesario, la circulación y permanencia en vías o lugares públicos.
- b) Para realizar la actuación anterior, deberá estar presente personal de la Guardia Civil.
- c) Para realizar la actuación anterior, deberá disponer de autorización previa del Alcalde del Municipio donde se produzca el siniestro.
- d) En ningún caso podrán realizar actuaciones tendentes a limitar o restringir la circulación y permanencia en vías o lugares públicos.

29) Con carácter general, el acceso a la categoría de bombero se hará por:

- a) Oposición.
- b) Concurso- oposición.
- c) Concurso.
- d) Oposición o concurso- oposición.

30) Dentro de los medios de la Conserjería de Medio Ambiente, se encuentran asignados en el Plan INFOMA, a los incendios forestales todos los medios del cuerpo de bomberos incluidos:

- a) 6 helicópteros
- b) 5 Helibombas
- c) 7 Helibombas
- d) 4 helicópteros

31) ¿En qué municipio se encuentra situada la Loma del Empalotado?

- a) El Boalo
- b) Bustarviejo
- c) Manzanares el Real
- d) Rascafría

32) Según reglamento prevención se considera bajo rasante (concepto técnico), toda superficie ocupable situada por debajo del nivel de la calle, en la que todos los recorridos de evacuación precisen salvar en sentido ascendente una altura de evacuación mayor de:

- a) 2,20 metros
- b) 1,50 metros
- c) 1,40 metros
- d) 2,05 metros

33) Según el Reglamento de prevención un edificio de uso comercial de más de 5000 metros cuadrados útiles deberá disponer de :

- a) 2 hidrantes de 70
- b) 1 hidrante de 100
- c) 2 hidrantes de 100
- d) 1 hidrante de 70 y 1 de 100

34) ¿Qué grupo de acción en el PLATERCAM realiza la siguiente actuación?
"Asignar objetivos a cada uno de los equipos especiales de trabajo en la zona de operaciones".

- a) grupo de seguridad
- b) grupo logístico
- c) grupo de intervención
- d) grupo de apoyo técnico

35) Los pulsadores de alarma de incendios emiten una señal a la central de detección y alarma centralizada, pero ¿que distancia máxima habrá que recorrer desde cualquier punto de un edificio, para activar la alarma según el Reglamento Prevención?

- a) 25 m
- b) 50 m
- c) 35 m
- d) 30 m

36) Aquellos incendios para cuya extinción se prevé la necesidad de que, a solicitud del

director del plan, sean incorporados medios no asignados al plan corresponden dentro del Plan INFOMA, ¿a que nivel de gravedad?

- a) nivel 1
- b) nivel 0
- c) nivel 2
- d) nivel 3

37) A efectos de estudio de una evacuación, un edificio que tiene una ocupación teórica de calculo de 200 personas. ¿Qué ancho mínimo tendrá de puertas, paso o pasillo según el Reglamento de Prevención?

- a) 1,25 m
- b) 1,50 m
- c) 1,00 m
- d) 0,80 m

38) Según el Reglamento de Prevención de Incendios de la Comunidad de Madrid, la instalación de las Bocas de Incendio Equipadas (BIE) deben estar dotadas como mínimo de:

- a) Racores, tipo "Barcelona".
- b) Manómetro, capaz de medir entre cero y la mínima presión que se alcance en la red.
- c) Manómetro, capaz de medir entre cero y la máxima presión que se alcance en la red.
- d) A) y C) son correctas.

39) Señala la respuesta correcta, según el Reglamento de Prevención de Incendios de la Comunidad de Madrid, los espacios de emplazamiento de vehículos de emergencia deben tener:

- a) Una anchura mínima libre de 5 metros.
- b) Una sobrecarga de uso de 2.000 Kg/m².
- c) Una pendiente máxima excepto en vía pública: 10 por 100.
- d) Todas las anteriores son correctas.

40) Según el Plan INFOMA, el efecto del fuego se calcula mediante la integración de los siguientes componentes:

- a) De ignición.
- b) De liberación de energía.
- c) De riesgo histórico.
- d) Todas son correctas.

41) Según el Plan INFOMA, son acciones de apoyo logístico:

- a) Estabilización de accidentados y heridos.

- b)Seguridad ciudadana.
- c)Evacuación y albergue.
- d)Ninguna es correcta.

42) Según la Ley 14/1.994 por la que se regulan los Servicios de Prevención, Extinción de Incendios y Salvamentos, ¿que médico no formaría parte del tribunal médico que dictamina la Segunda Actividad de los funcionarios del Cuerpo de Bomberos de la Comunidad de Madrid?

- a)El designado por la consejería de sanidad y servicios sociales.
- b)El designado por la seguridad social
- c)Uno adscrito a la Unidad de Asistencia Medica del cuerpo de bomberos
- d) Todos los anteriores formarían parte de ese tribunal

43) Según la Ley de Protección Civil 2/85, señala que afirmación es falsa.

- a)El Ministro del Interior tiene que elaborar la Norma Básica de Protección Civil
- b)La Comisión Nacional de Protección Civil tiene que homologar los planes municipales.
- c)Todos los ciudadanos mayores de edad, están obligados a colaborar en la Protección Civil
- d)Todos los planes territoriales tienen que tener un catalogo de recursos.

44)¿Quien tiene la potestad sancionadora de las infracciones que se cometan contra lo dispuesto en la Ley de Protección Civil 2/85?

- a)Hasta cinco millones el órgano de gobierno provincial.
- b)Hasta tres millones el órgano de gobierno municipal.
- c)A partir de cinco millones el Ministro del Interior.
- d)a y c son validas.

45)Según el Decreto 341/1999 de Prevención de Incendios de la Comunidad de Madrid, la escalera de incendios debe cumplir:

- a)Sus tramos serán rectos.
- b)Su anchura sera superior a 90 cm.
- c)Puede ser una escalera desplegable en su totalidad si es de fácil manejo.
- d)Todas son validas.

46) Según el Decreto 341/1999 de Prevención de Incendios de la Comunidad de Madrid, los edificios de una altura de evacuación mayor de 28m., deben cumplir:

- a)La estructura debe garantizar su estabilidad ante el fuego EF-210
- b)Los elementos constructivos delimitadores de los sectores de incendios deben ser RF-210
- c) Debe disponer de un hidrante de 100mm de diámetro
- d)a y b son correctas

47) Señala la respuesta falsa según lo dispuesto en el Decreto 341/1999 de Prevención de Incendios de la Comunidad de Madrid:

- a) Los aseos están exentos de tener extintores
- b) Cada tres meses hay que comprobar la accesibilidad a los hidrantes.
- c) Las revisiones que se hacen con frecuencia de 6 meses y de 1 año deben realizarse por una empresa de mantenimiento autorizada y registrada por la comunidad de Madrid.
- d) La instalación de extintores portátiles no es preciso que la realice una empresa instaladora autorizada por la Comunidad de Madrid.

48) Según el Decreto 341/1999 de Prevención de Incendios en la Comunidad de Madrid, señala que establecimiento destinado al uso de espectáculos y reunión no está bien clasificado.

- a) Café-espectáculo con más de 10 actuantes, grupo II.
- b) Cines, grupo IV
- c) Circos, grupo V.
- d) Parques Zoológicos, grupo V.

49) Según el Decreto 341/1999 de Prevención de Incendios en la Comunidad de Madrid, el vial de acceso de los edificios debe cumplir:

- a) Anchura mínima de 3,5 m.
- b) Altura mínima de 4,5 m.
- c) a y b son ciertas.
- d) No existen mínimos sólo máximos.

50) La estructura general de planificación desarrollada en el Plan INFOMA, no obedece al principio:

- a) Complementariedad de las funciones asignadas a cada nivel de planificación.
- b) Justicia con el medio ambiente.
- c) Integridad de los distintos niveles
- d) Coherencia organizativa con la planificación territorial.

51) En época de peligro bajo, ¿existe algún tipo de medida limitativa?

- a) Ninguna
- b) Sólo medidas prohibitivas
- c) Las medidas limitativas especificadas en la addenda 2
- d) Solamente arrojar fósforos encendidos.

52) ¿Qué embalse NO está formado por el Jarama o alguno de sus afluentes.

- a) Vado
- b) El Pardo
- c) Las Nieves
- d) Navacerrada.

53) La M-506 cruza la N-IV en el municipio de:

- a)Parla
- b)Pinto
- c)Valdemoro
- d)San Martín de la Vega

54) Cual de estas carreteras no pertenece a la Red Principal.

- a)M-111
- b)M-501
- c)M-300
- d)M-603

55) Señala que industria no está afectada por el R.D. 1254/1.999.

- a)Aragonesas Agro S.A.
- b)Industrias Químicas Enberg S.A.
- c)Icoa S.A.
- d)Todas están afectadas

56) Por cual de estos municipios no pasa el tramo oleoducto ROTA-ZARAGOZA existente en la Comunidad de Madrid?

- a)Loeches.
- b)San Fernando de Henares.
- c)Algete
- d)Pasa por todos los anteriores

57) En una hipertermia grave:

- a)El pulso y la respiración se mantienen rápidos.
- b)Se producen vértigos
- c)La piel se enrojece como reacción dérmica al frío
- d)Debemos actuar en cualquier caso manteniendo a la víctima en reposo o en posición antishock, masajeándole las extremidades.

58) A tenor literal del artículo 77 de la Ley de la Función Pública, es un deber del funcionario el estricto cumplimiento de:

- a)La Constitución y las Leyes.
- b)La Constitución y el Estatuto de Autonomía.
- c)La Constitución, el Estatuto de Autonomía y las leyes.
- d)La Constitución, el Estatuto de Autonomía y el ordenamiento jurídico.

59) Señale la correcta: Es falta muy grave:

- a)La violación de la imparcialidad política utilizando facultades públicas con el fin de influir en decisiones administrativas.
- b)La falta notoria de rendimiento cuando no suponga inhibición.

- c) La adopción de acuerdos manifiestamente ilegales cuando causen perjuicio grave a la Administración o a los ciudadanos.
- d) El abandono del puesto.

60) ¿Cuál de estas carreteras no pertenece al Sector V de la RED LOCAL de la Comunidad de Madrid?

- a) M-520
- b) M-522
- c) M-523
- d) Todos los anteriores pertenecen

61) La Ley 14/1.994 por la que se regulan los Servicios de Prevención, Extinción de Incendios y Salvamentos de la Comunidad de Madrid establece que la Categoría de Inspector pertenece al grupo:

- a) A
- b) B
- c) C
- d) D

62) ¿Cuáles de éstas Categorías pertenece al Grupo C según lo previsto en la Ley 14/1.994 de por la que se regulan los Servicios de Prevención, Extinción de Incendios y Salvamentos de la Comunidad de Madrid?

- a) Bombero Especialista
- b) Cabo
- c) Oficial de Área
- d) a) y b) son correctas

63) La Ley 14/1.994 por la que se regulan los Servicios de Prevención, Extinción de Incendios y Salvamentos de la Comunidad de Madrid NO se refiere en su artículo 18º (Jubilación y Segunda Actividad) a uno de estos conceptos:

- a) Jubilación Forzosa
- b) Jubilación Voluntaria
- c) Jubilación Anticipada
- d) Funciones de Apoyo Técnico

64) ¿Se tiene en cuenta la condición de FESTIVIDAD para valorar el complemento específico del salario de los miembros del Cuerpo de Bomberos de la Comunidad de Madrid en función de lo establecido en la Ley 14/1.994 por la que se regulan los Servicios de Prevención, Extinción de Incendios y Salvamentos de la Comunidad de Madrid?

- a) No
- b) Sí
- c) Dependerá del horario determinado en función del personal y servicios a prestar

d) Sí, pero se incluye dentro de la PENOSIDAD

65) Conforme al Reglamento de Prevención de Incendios los materiales ocultos en el interior de falsos techos o falsos suelos deben ser de grado de Reacción al Fuego:

- a) M-0 como máximo
- b) M-1 como máximo
- c) M-2 como máximo
- d) M-1 como mínimo

66) Conforme al Reglamento de Prevención de Incendios de los usos que pueden coexistir con el uso de vivienda cual debe reunir las condiciones de camino de evacuación:

- a) Residencial Público
- b) Cultural, docente
- c) Oficina
- d) Los tres usos deben reunir esta condición

67) Conforme al Reglamento de Prevención de Incendios indique cual de los siguientes recintos especiales no podrá situarse bajo rasante independientemente de la superficie:

- a) Los laboratorios que no sean sector de riesgo nulo
- b) Los locales para almacenamiento de gases medicinales
- c) Las zonas de esterilización
- d) Las zonas de taller que no sean sector de riesgo nulo

68) De acuerdo con el PLATERCAM cuando se trate de emergencias que afecten a un solo municipio en Situación 1:

- a) La dirección del Plan podrá recaer en el director del Plan Local
- b) La coordinación del Plan la realizará el director del Plan
- c) La dirección del Plan se llevará a cabo por el Consejero de Medio Ambiente
- d) La coordinación del Plan podrá recaer en el director del Plan Local

69) De acuerdo con el PLATERCAM en referencia a los avisos a la población; emplear el menor número de palabras posibles se define como:

- a) Exactitud
- b) Concisión
- c) Suficiencia
- d) Claridad

70) El Ramal Principal del Gasoducto a su paso por la Comunidad de Madrid no pasa por el término municipal de:

- a) Ciempozuelos
- b) Torrejón de Velasco

- c)Pinto
- d)Getafe

71) Indique por cuál de las siguientes carreteras se accede al municipio de Cubas de la Sagra.

- a)M-404
- b)M-415
- c)M-942
- d)M-417

72) Según la Ley 14/1.994, por la que se regulan los Servicios de Prevención, Extinción de Incendios y Salvamentos de la Comunidad de Madrid, que Órgano será el encargado de impartir el curso selectivo de acceso a las categorías del Cuerpo de Bomberos.

- a)La Consejería Competente en razón de la materia.
- b)La Administración de la Comunidad de Madrid.
- c)La Dirección General de Protección Ciudadana
- d)El Consejo de Gobierno.

73) Según el artículo 22 de la Ley 14/1.994 por la que se regulan los Servicios de Prevención, Extinción de Incendios y Salvamentos de la Comunidad de Madrid, la Comisión de Salud Laboral tendrá:

- a)Naturaleza Estatutaria.
- b)Naturaleza Administrativa.
- c)Naturaleza Paritaria
- d)Garantiza la salud de los trabajadores.

74) Según la Ley 2/1.985, sobre Protección Civil, ¿cuál de las siguientes funciones realizará la Comisión de Protección Civil de la Comunidad Autónoma?

- a)Homologar los planes de Protección Civil cuya competencia tenga atribuida
- b)Informar las normas técnicas que se dicten en su ámbito nacional.
- c)Establecer el catalogo de recursos movilizables.
- d)Las respuestas A) y C) son ciertas.

75) Según la Ley 2/1.985, sobre Protección Civil, ¿quién participa en la coordinación de las acciones de los órganos relacionados con la Protección Civil?

- a)La Comisión Nacional de Protección Civil.
- b)El Ministro del Interior.
- c)La Comisión de Protección Civil de la Comunidad Autónoma.
- d)Las respuestas A) y C) son correctas

76) Una de estas afirmaciones no es cierta:

- a) La epistaxis y la otorragia no deben ser taponadas
- b) La fractura de los huesos propios de la nariz se caracteriza por la inexistencia de epistaxis
- c) La médula espinal puede verse afectada por mecanismos de compresión o sección
- d) Las fracturas de los maxilares son lesiones difíciles de apreciar

77) La potestad sancionadora de las infracciones que se cometan contra lo dispuesto en la Ley 2/85 de Protección Civil se ejercerá por los municipios:

- a) Hasta 2 millones de pesetas
- b) Hasta 5 millones de pesetas
- c) Hasta 1 millón de pesetas
- d) Hasta 15 millones de pesetas

78) La Comisión de Protección Civil (según la Ley 2/85 de Protección Civil) de la Comunidad Autónoma estará compuesta por representantes:

- a) De la Administración del Estado
- b) De la Comunidad Autónoma
- c) De las Corporaciones Locales
- d) Todas las anteriores son correctas

79) Según la Ley 2/85 de Protección Civil los Planes Territoriales deberán ser homologados por el órgano competente a partir de su recepción en el plazo máximo de:

- a) 1 mes
- b) 3 meses
- c) 15 días
- d) 2 meses

80) Según el Reglamento de Prevención de Incendios, los campamentos de turismo deben contar como mínimo:

- a) 2 hidrantes de 80 mm.
- b) 1 hidrante de 80 mm.
- c) 1 hidrante de 100 mm.
- d) 2 hidrantes de 75 mm.

DIFUNDE CSIT-Unión Profesional

B O M C A M

2 0 0 3

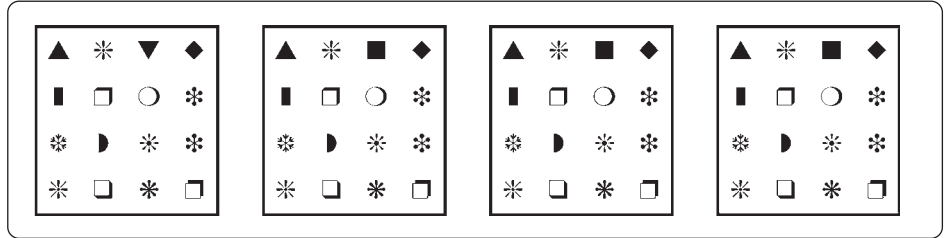

DIFUNDE CSIT-Unión Profesional

DIFUNDE CSIT-Unión Profesional



INSTRUCCIONES

E1. Examine con atención el cuadro modelo de la izquierda y los cuatro cuadros de la derecha y decida cuántos son exactamente iguales al modelo.



Conteste con:

- A Si hay UN cuadro igual al modelo
- B Si hay DOS cuadros iguales al modelo
- C Si hay TRES cuadros iguales al modelo
- D Si los CUATRO cuadros son iguales al modelo

La respuesta correcta es la C, porque solo el primer cuadro es diferente al modelo.

E2. Lea la frase siguiente y conteste a la pregunta que se hacen a continuación.

TRAS LA TEMPESTAD SIEMPRE LLEGA LA CALMA

¿Cuántas vocales hay en la frase?

- A. 12
- B. 14
- C. 13
- D. 10

La respuesta correcta es la C.

E3. Observe el cuadro que contiene diferentes símbolos distribuidos en filas y columnas y conteste a la pregunta que se hace a continuación:

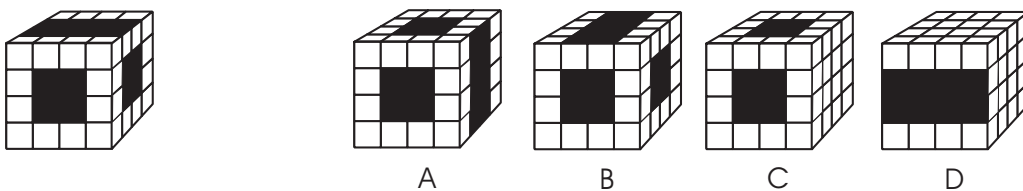
¿Cuántas veces aparece en el cuadro el símbolo ϑ ?

- A. 5
- B. 3
- C. 4
- D. 2

A	Φ	A	Y	Γ	Γ	Σ	ζ	Δ
Δ	T	Σ	I	B	P	Ω	B	Γ
Φ	Γ	Δ	O	N	Φ	E	H	H
P	B	Φ	Π	H	H	P	Ψ	N
T	N	Γ	∇	ϑ	Ψ	T	T	M
Γ	M	T	Λ	Ψ	Y	Ψ	Y	K
H	ϑ	P	ϑ	Ψ	ϑ	Ψ	I	Λ

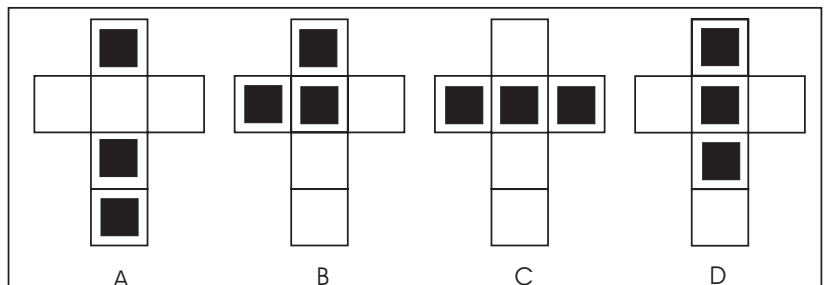
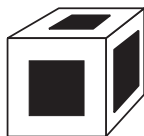
La respuesta correcta es la C.

E4. En un tipo de ejercicios se le presentará un cubo a la izquierda con algunas zonas sombreadas únicamente en tres de sus caras. Su tarea consistirá en averiguar cuál de los cuatro cubos de la derecha (A, B, C o D) es igual al de la izquierda si éste hubiese sido rotado en alguna dirección. Es importante que tenga en cuenta que los cubos sólo tienen sombreadas tres de sus caras, las otras tres están en blanco. Fíjese en el siguiente ejemplo.



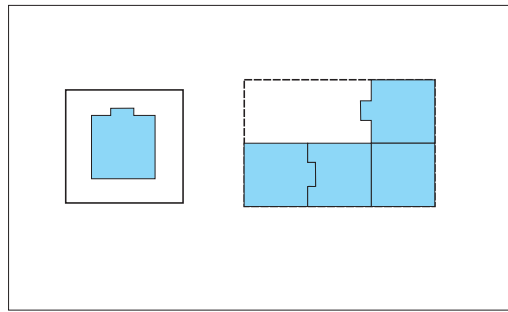
La respuesta correcta es C.

E5. En otros ejercicios, al igual que en este ejemplo, aparecerán cuatro modelos (A, B, C o D) y tendrá que averiguar cuál permite construir la figura de la izquierda. Tenga en cuenta que los modelos sólo tienen figuras en las caras que aparecen visibles y que la parte posterior de éstas está en blanco.



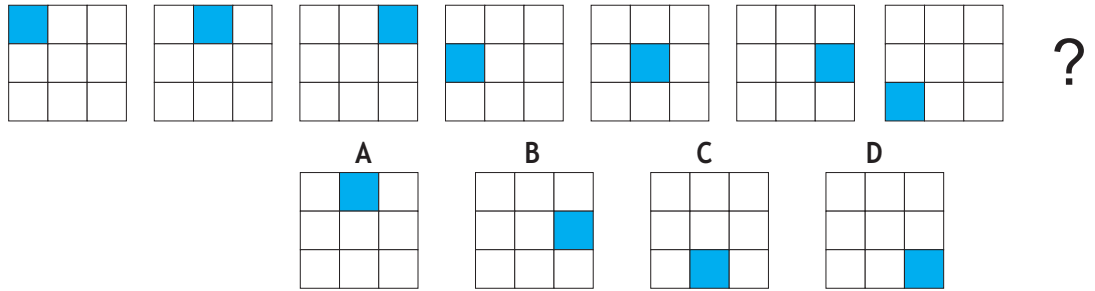
La respuesta correcta es B.

E6. En otros ejercicios, al igual que en este ejemplo, se le presentará un puzzle al que le faltan dos o tres piezas y a su izquierda una o dos de las piezas que le faltan. Su tarea consistirá en averiguar cuál de las cuatro piezas de la derecha (A, B, C o D) es la otra pieza que completa el puzzle, teniendo en cuenta que las piezas sueltas pueden aparecer rotadas en el espacio.



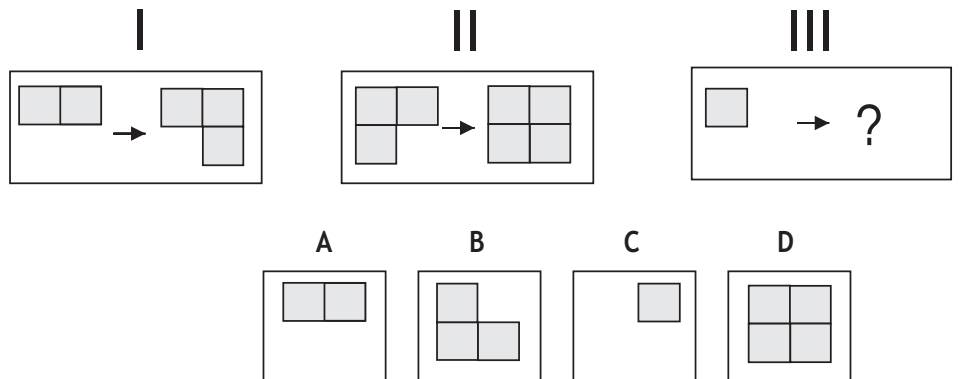
La respuesta correcta es A.

E7. En el siguiente ejemplo las figuras están ordenadas siguiendo una determinada regla. Su tarea consiste en averiguar cuál es esa regla y cuál de las opciones de respuesta (A, B, C o D) continúa la serie ocupando el lugar del interrogante.



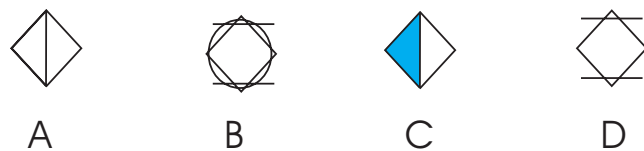
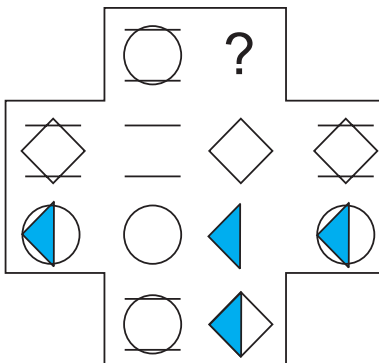
La respuesta correcta en este ejemplo es C. En este caso la lógica que siguen las figuras es la siguiente: Se sombrea cada vez un cuadrado distinto. Este cuadrado sombreado avanza de izquierda a derecha y cuando se acaba una fila, comienza por el extremo izquierdo de la siguiente fila.

E8. En el siguiente ejercicio su tarea consiste en averiguar qué figura completaría la relación ocupando el lugar del interrogante. Verá dos casos resueltos (I y II). En cada uno de ellos una figura cambia siguiendo una determinada regla. El tercer caso (III) que se le muestra está incompleto y Vd. deberá averiguar qué figura (A, B, C o D) completa la relación establecida.



La respuesta correcta en este ejemplo es A. En este caso la regla que determina el cambio de figura consiste en añadir un nuevo cuadrado. Así en el primer caso (I) aparecen dos cuadrados y se añade un tercero. En el segundo caso (II) aparecen tres cuadrados y se añade un cuarto. De este modo en el tercer caso (III), en el lugar del interrogante deberían aparecer dos cuadrados.

E9. En el siguiente ejercicio su tarea consiste en averiguar qué figura debería ocupar el lugar del interrogante. Deberá descubrir cuál es la lógica que ordena las figuras que aparecen y elegir entre las opciones de respuesta (A, B, C o D) aquella que considere que sigue la lógica establecida.



La respuesta correcta en este ejemplo es C. En este caso la lógica que siguen las figuras es la siguiente: las figuras del centro se superponen para formar las figuras de los extremos en cada columna y en cada fila.



ESPERE LAS INSTRUCCIONES DEL EXAMINADOR.

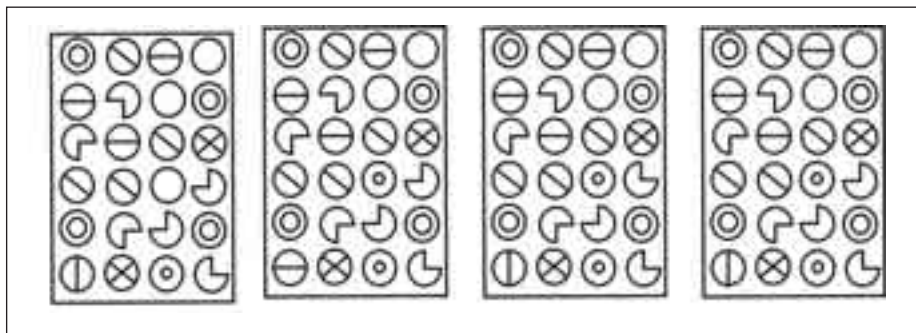

Examine con atención el cuadro modelo de la izquierda y los cuatro cuadros de la derecha y decida cuántos son exactamente iguales al modelo.

Conteste con:

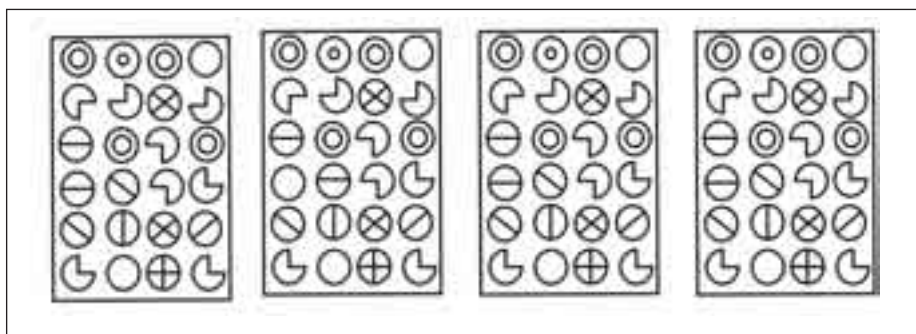

- A Si hay UN cuadro igual al modelo
- B Si hay DOS cuadros iguales al modelo
- C Si hay TRES cuadros iguales al modelo
- D Si los CUATRO cuadros son iguales al modelo

DIFUNDE CSIT-Unión Profesional

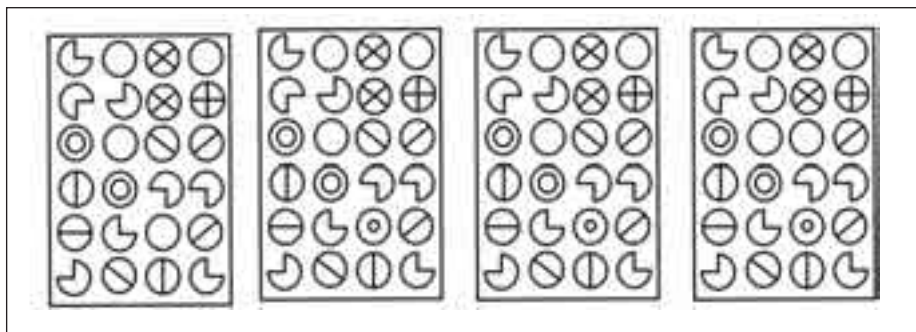

81.



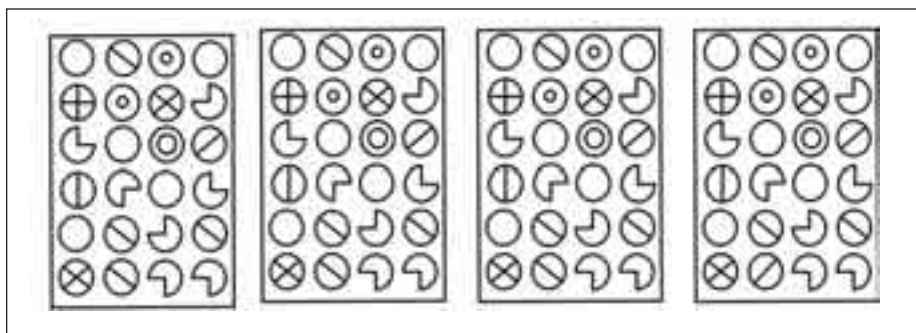

82.



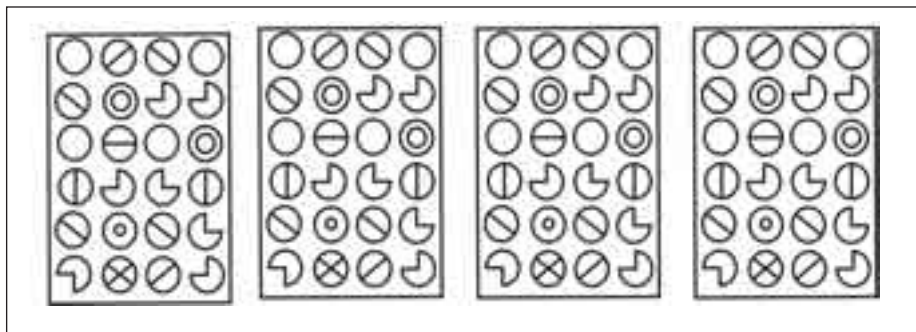

83.



84.



85.



Lea el texto siguiente y conteste a las preguntas que se hacen a continuación.

LO QUE AHORA NO ALCANZA LA PERFECCIÓN, LA ALCANZARÁ EN UN INTENTO POSTERIOR O REITERADO; NADA DE LO QUE ABRAZÓ LA HISTORIA ES PASAJERO, Y A TRAVÉS DE TRANSFORMACIONES INNUMERABLES RENACE DE NUEVO EN FORMAS SIEMPRE MÁS RICAS.

86. En el texto, ¿cuántas veces aparecen dos o más vocales seguidas en la misma palabra?

- A. 8 B. 7 C. 9 D. 10

87. ¿Cuántas consonantes hay en total en las últimas 10 palabras?

- A. 41 B. 37 C. 38 D. 39

88. En el texto, ¿cuántas palabras de 2 o más letras empiezan y terminan en vocal?

- A. 4 B. 6 C. 7 D. 5

DIFUNDE CSIT-Unión Profesional

89. En el texto, ¿cuántas palabras contienen dos o más aes (letra A)?

- A. 6 B. 8 C. 7 D. 9

90. En el texto, ¿cuántas palabras tienen una vocal en la cuarta posición seguida de una consonante en la quinta posición?



- A. 8 B. 10 C. 6 D. 7

DIFUNDE CSIT-Unión Profesional


Observe el cuadro que contiene diferentes símbolos distribuidos en filas y columnas y conteste a las preguntas que se hacen a continuación.

91. ¿Cuántas veces aparece en el cuadro el símbolo *er*?

- A. 3 B. 4 C. 2 D. 5

92. ¿Cuántas veces más aparece el símbolo  que el símbolo ?

- A. 2 B. 1 C. 3 D. ninguna




93. ¿Cuántas veces aparecen dos símbolos iguales seguidos en la misma fila?

- A. 8 B. 6 C. 9 D. 10



94. ¿Qué dos símbolos aparecen una sola vez en el cuadro?

- A.  y  B.  y  C.  y  D.  y 


95. ¿En cuántas filas no aparece el símbolo ?

- A. En 5 B. En 6 C. En 4 D. En 7


En los siguientes ejercicios se presenta un cubo a la izquierda con algunas zonas sombreadas únicamente en tres de sus caras. Su tarea consistirá en averiguar cuál de los cuatro cubos de la derecha (A, B, C o D) es igual al de la izquierda si éste hubiese sido rotado en alguna dirección. Recuerde que los cubos sólo tienen sombreadas tres de sus caras, las otras tres están en blanco.




A



B





C




D


DIFUNDE CSIT-Unión Profesional




A





B




C




D




A





B




C




D




A



B





C




D


DIFUNDE CSIT-Unión Profesional




A



B



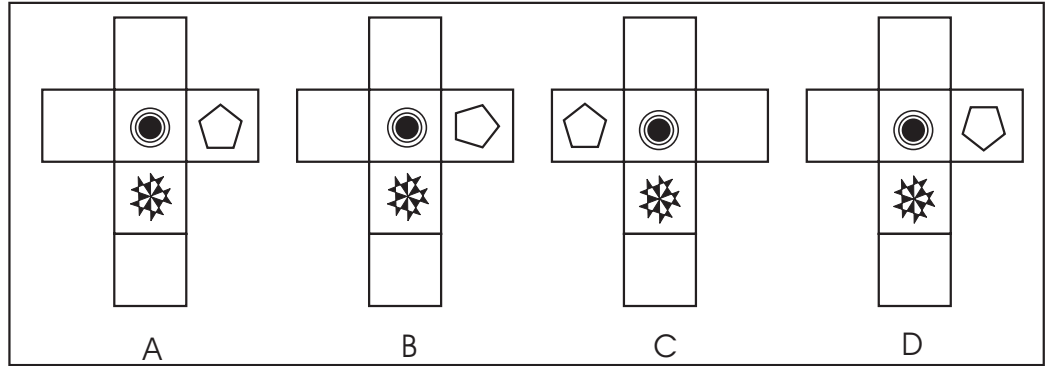
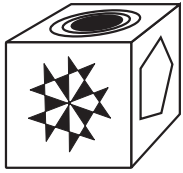
C



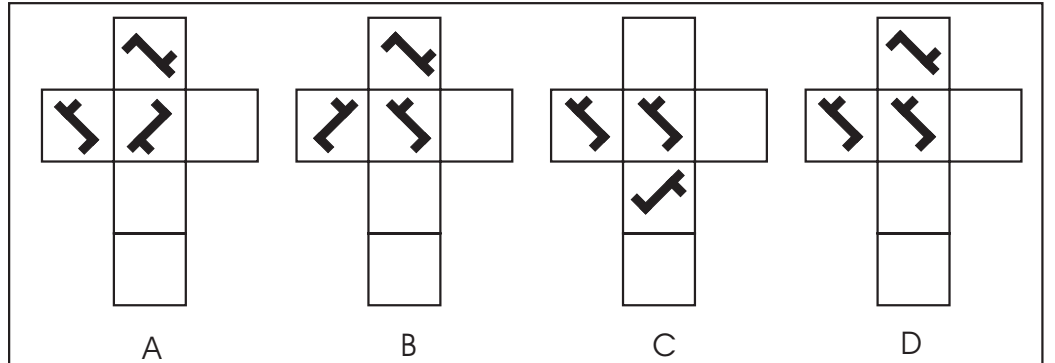

D

En los siguientes ejercicios deberá averiguar cuál de los cuatro modelos (A, B, C o D) permite construir la figura de la izquierda. Tenga en cuenta que los modelos sólo tienen figuras en las caras que aparecen visibles y que la parte posterior de éstas está en blanco.

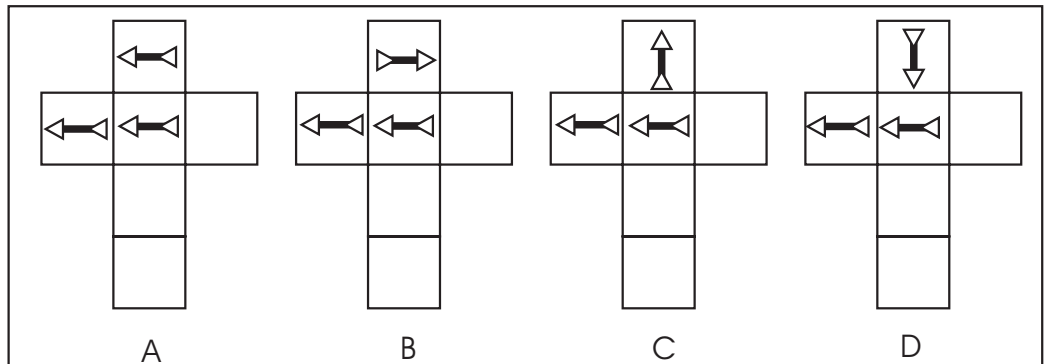
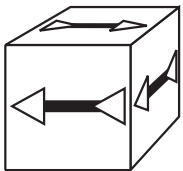
101.



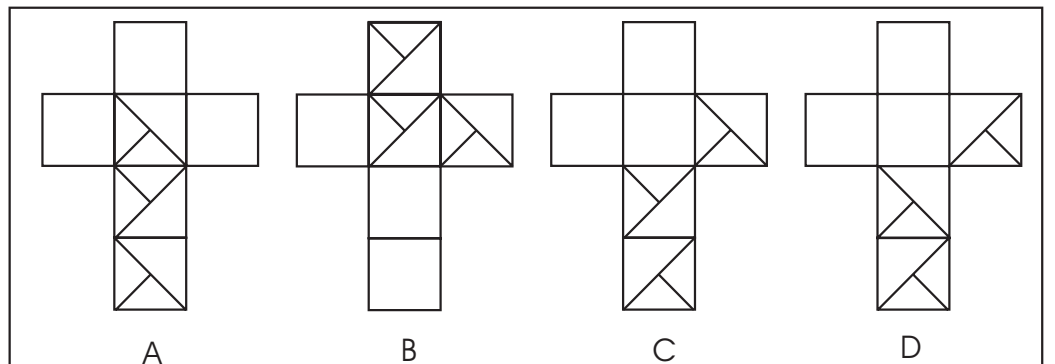
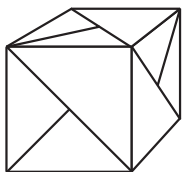
102.



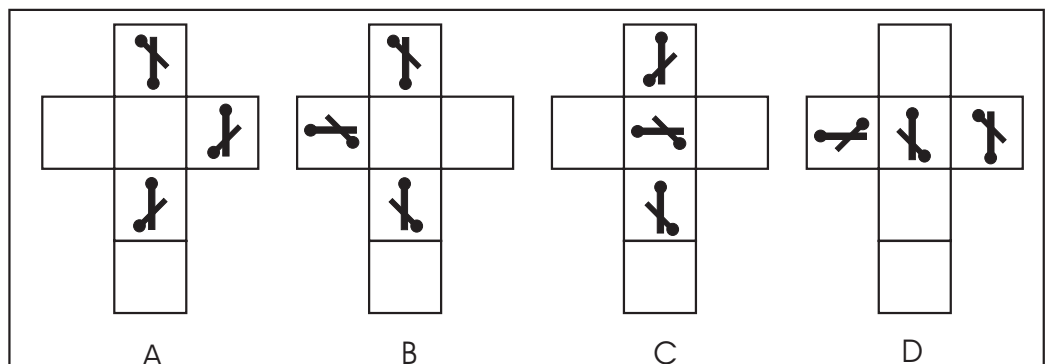

103.



104.



105.



En los siguientes ejercicios se presenta un puzzle al que le faltan dos o tres piezas y su izquierda una o dos de las piezas que le faltan. Su tarea consistirá en averiguar cuál de las cuatro piezas de la derecha (A, B, C o D) es la otra pieza que completa el puzzle, teniendo en cuenta que las piezas sueltas pueden aparecer rotadas en el espacio.

106.



DIFUNDE CSIT-Unión Profesional



A



B



C



D

107.



A



B

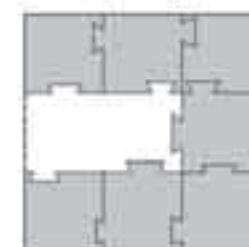


C



D

108.



DIFUNDE CSIT-Unión Profesional



A



B

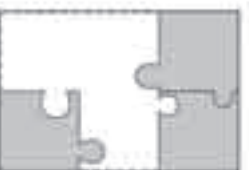


C



D

109.



A



B



C



D

110.



A



B

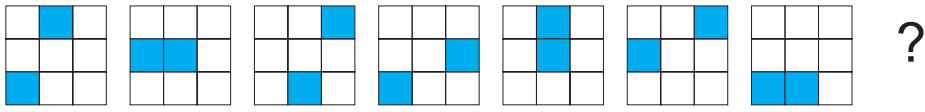


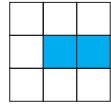


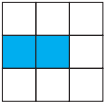
C

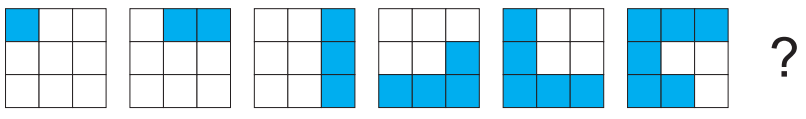


D

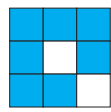


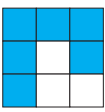
En cada uno de los siguientes ejercicios su tarea consiste en averiguar cuál de las opciones de respuesta (A, B, C o D) continuaría la serie ocupando el lugar del interrogante.

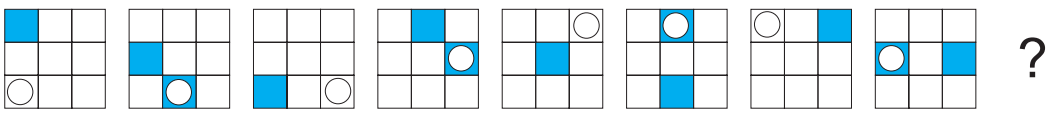
111. 

A  B  C  D 

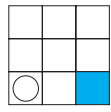
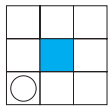
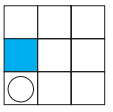
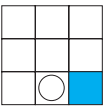
112. 

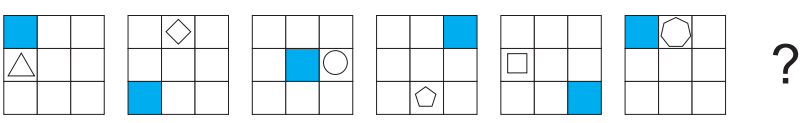
DIFUNDE CSIT-Unión Profesional

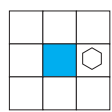
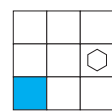
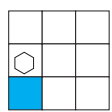
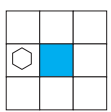
A  B  C  D 

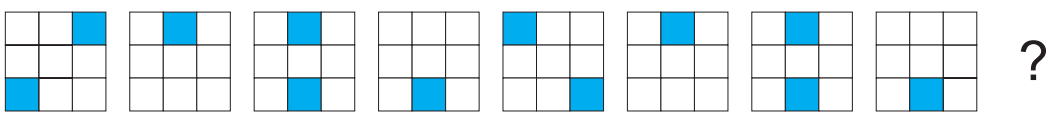
113. 

DIFUNDE CSIT-Unión Profesional

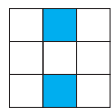

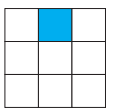
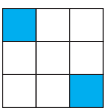
A  B  C  D 

114. 

A  B  C  D 

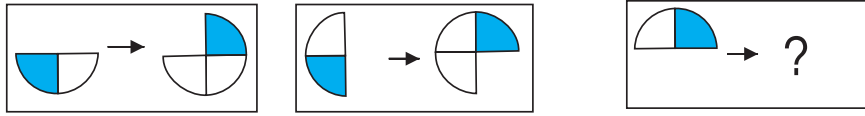
115. 

DIFUNDE CSIT-Unión Profesional

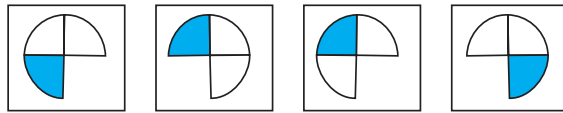
A  B  C  D 

En cada uno de los siguientes ejercicios su tarea consiste en averiguar cuál de las opciones de respuesta (A, B, C o D) completaría la relación en el tercer caso propuesto, ocupando el lugar del interrogante.

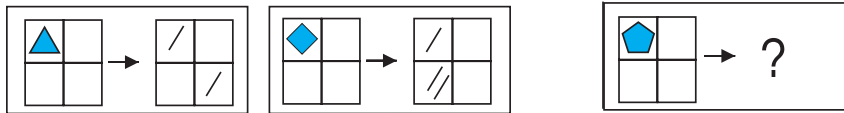
116.



A B C D

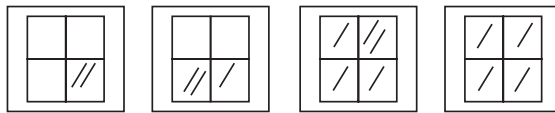


117.

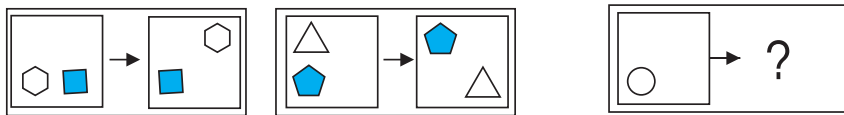


DIFUNDE CSIT-Unión Profesional

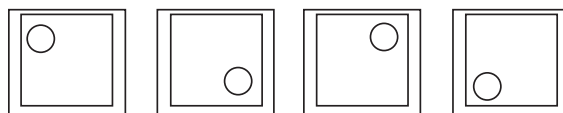
A B C D



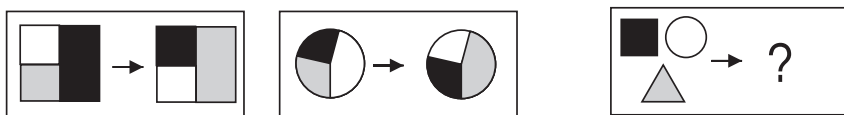
118.



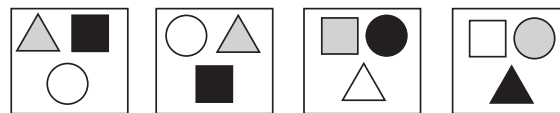
A B C D



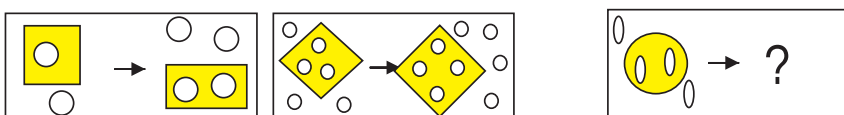
119.



A B C D

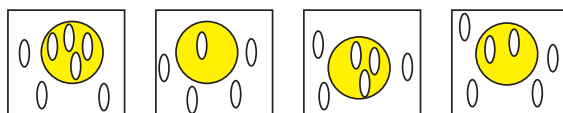


120.



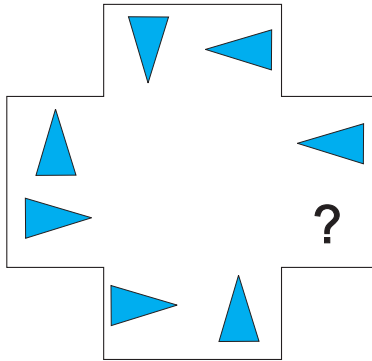
DIFUNDE CSIT-Unión Profesional

A B C D



En cada uno de los siguientes ejercicios su tarea consiste en averiguar cuál de las opciones de respuesta (A, B, C o D) completaría la relación, ocupando el lugar del interrogante.

121.



A



B



C

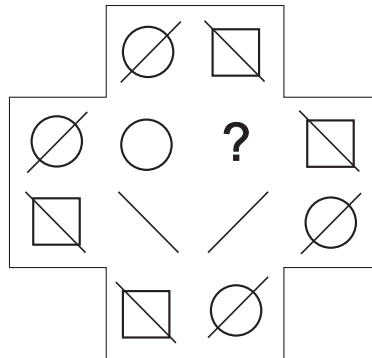


D



DIFUNDE CSIT-Unión Profesional

122.



A



B



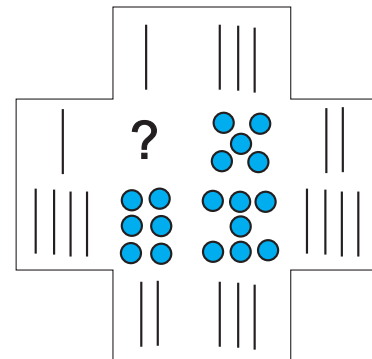
C



D



123.



A



B



C




D



DIFUNDE CSIT-Unión Profesional

124.



A



B



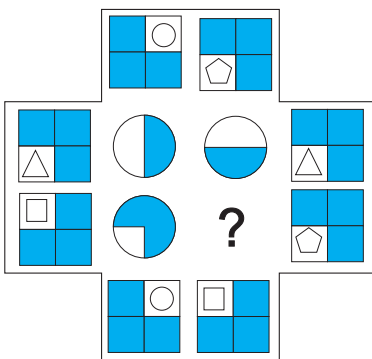
C



D



125.



A



B



C



D



FIN DE LA PRUEBA. SI HA TERMINADO ANTES DEL TIEMPO CONCEDIDO, REPASE SUS CONTESTACIONES.

*PRUEBAS SELECTIVAS PARA EL
INGRESO EN EL CUERPO DE BOMBEROS*
BOMBERO CONDUCTOR (Grupo D)

Plantillas correctoras 19/10/2003

PRIMER EJERCICIO. PRIMERA FASE (TEST s/ TEMARIO).

DIFUNDE CSIT-Unión Profesional

1	2	3	4	5	6	7	8	9	10
A	A	B	C	B	B	B	B	B	C
11	12	13	14	15	16	17	18	19	20
A	B	D	D	B	D	B	C	D	D
21	22	23	24	25	26	27	28	29	30
C	C	B	B	A	B	B	A	D	A
31	32	33	34	35	36	37	38	39	40
D	B	B	D	A	C	C	D	D	D
41	42	43	44	45	46	47	48	49	50
C	B	B	A	A	C	C	B	C	B
51	52	53	54	55	56	57	58	59	60
C	C	B	A	B	C	NULA	D	C	A
61	62	63	64	65	66	67	68	69	70
A	A	D	A	B	A	B	D	B	A
71	72	73	74	75	76	77	78	79	80
D	C	C	A	D	B	C	D	B	B

PRIMER EJERCICIO .SEGUNDA FASE. (TEST Psicotécnico)

DIFUNDE CSIT-Unión Profesional

81	82	83	84	85	86	87	88	89	90
A	C	B	C	D	C	B	D	C	A
91	92	93	94	95	96	97	98	99	100
D	B	C	B	B	A	B	C	C	D
101	102	103	104	105	106	107	108	109	110
A	D	D	C	B	B	B	D	A	B
111	112	113	114	115	116	117	118	119	120
A	B	A	B	B	A	D	C	D	C
121	122	123	124	125					
C	D	B	B	D					